



ENGLISH

VOCABULARY

A. Complete the vocabulary for jobs in a shopping centre. (Check your answers in the Picture Dictionary page 84)



o _____ n



h _____ r




j _____ r



t _____ t



f _____ t



s _____ t

B. Complete these words. (Check your answers in the Picture Dictionary pages 86 and 87).

1) su ___ ge ___ n

2) ___ urs ___

3) p ___ tien ___

4) f ___ rst aid ___ it

5) ba ___ dag ___

6) ___ nje ___ tion

7) pre ___ crip ___ ion

8) ___ i ___ l

9) bl ___ o ___

10) sti ___ che ___

11) whee ___ ch ___ ir

12) b ___ u ___ se

13) hea ___ ac ___ e

14) s ___ omach ___ che

15) s ___ re t ___ roat

16) c ___ t

GRAMMAR

A. Write the verbs in past.

INFINITIVE	PAST
read	
write	
drink	
run	
sing	
break	
get	
come	
teach	
be	
hit	
know	
understand	
catch	
do	
go	
ring	
see	
cut	
draw	

B. Complete the sentences with one of the verbs in the box. Remember to change the verb to past.

arrive play eat visit fly rain begin ride

1. Mike _____ hamburgers yesterday.
2. It _____ last month.
3. Lisa _____ her family in France two months ago.
4. Timmy _____ late to class this morning.
5. The lesson _____ at 7:00.
6. Carol and John _____ to Greece on their last vacation.
7. Julie _____ baseball last weekend.
8. I _____ a horse last week.

READING

A. Read the information about teddy bears and answer the questions.

TEDDY BEARS



There are many different kinds of stuffed animals. Possibly the most popular stuffed animal is the stuffed toy bear nicknamed the “teddy bear”.

In 1902, President Theodore Roosevelt was on a hunting trip in Mississippi. One of the other hunters chased a bear up a tree. He told the President to shoot it. President Roosevelt refused to shoot the bear. He said it was “unsportsmanlike”. A newspaper made a cartoon about President Roosevelt’s decision.

According to popular legend, a shopkeeper saw the cartoon, and asked the President’s permission to make stuffed bears called “Teddy’s bears”. “Teddy” was a nickname for President Theodore Roosevelt, and although the President disliked the nickname, many people called him that.

Teddy bears were and are popular now and a loved toy for at least a hundred years. You can find teddy bears in almost every toy store. They can also be found in museums, in art shows, in collector’s trade shows, and many other places. They show no signs of leaving the hearts of children (or collectors!) any time soon.

1. Where was President Roosevelt hunting when he refused to shoot the bear?

- a. Washington, D.C.
- b. Georgia
- c. Michigan
- d. Mississippi

2. Why did President Roosevelt refuse to shoot the bear?

- a. because the bear was his friend
- b. because the bear was beautiful
- c. because it is “unsportsmanlike”
- d. because bears are not dangerous animals

3. Which of the following is NOT true?

- a. People collect teddy bears.
- b. Teddy bears can be found in museums.

- c. Teddy bears have existed for over a century.
- d. President Roosevelt shot a bear in 1902.

4. Why did the bears get called “Teddy’s bears”?
- a. because President Roosevelt hated the nickname
 - b. because that was the name of the bear
 - c. because people called the President “Teddy”
 - d. because they were stuffed

B. Read the information about teddy bears again and circle yes or no.

- 1. There are many kinds of stuffed animals. **Yes / No**
- 2. A dog chased a bear up a tree. **Yes / No**
- 3. A magazine made a cartoon about Roosevelt’s decision. **Yes / No**
- 4. The President liked his nickname. **Yes / No**
- 5. Teddy bears a popular now. **Yes / No**
- 6. You can find teddy bears in almost every toy store. **Yes / No**

ESPAÑOL

✓ **LOS INFORMES, pág. 181**

I.- Lee detenidamente y contesta las siguientes preguntas:

¿Cuál es la función de un informe?

¿Cuáles son sus características?

¿Qué fuentes de información se necesitan para su elaboración?

<hr/>	<hr/>
<hr/>	<hr/>
<hr/>	<hr/>
<hr/>	<hr/>

Redacta un informe sobre el tema "El sol".

✓ **LOS DERECHOS DE LOS NIÑOS, pág. 184-187**

II.- Escribe cinco derechos que amparen a los niños.

- 1.-

- 2.-

- 3.-

- 4.-

- 5.-

✓ **LEXEMA, GRAMEMA Y DERIVATIVOS, trabajo en clase.**

III.- Separa en lexema, gramema y derivativo las siguientes palabras:

	Derivativo	Lexema	Gramema
Inquieto			
Descubrir			
Deshecho			
Desmentir			
Inmaduro			

IV.- Contesta las siguientes preguntas.

1.- ¿Qué es un lexema?

2.- ¿Cómo se le llama a la parte de la palabra que cambia para indicar el género y número?

3.- ¿A qué se le llama derivativos?

✓ **LOS ANTÓNIMOS, pág. 181.**

V.- Une con líneas de diferente color los antónimos de las dos columnas.

abierto

barato

comprar

bajar

fácil

lejos

cobarde

perder

caro

cerrado

cerca

vender

subir

difícil

ganar

valiente

MATEMÁTICAS

✓ GRÁFICAS DE VARIACIÓN PROPORCIONAL Y NO PROPORCIONAL. Libro Págs. 166 y 167

Elabora las siguientes gráficas con los datos que se indican y anota en la línea PROPORCIONAL o NO PROPORCIONAL.

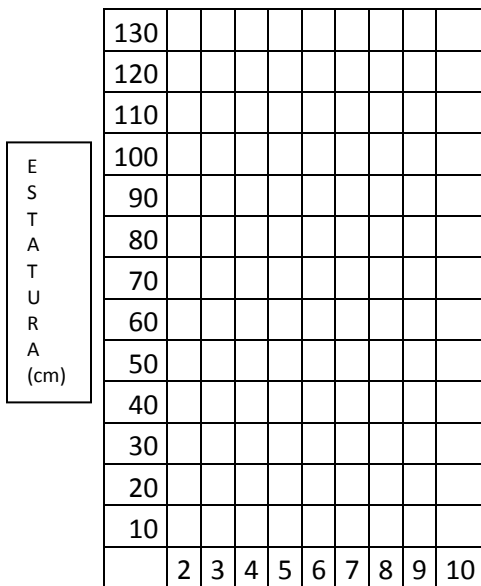
1.- La estatura de Laura desde los 2 años hasta la actualidad.

AÑOS	2	3	4	5	6	7	8	9	10
ESTATURA EN cm.	73	75	85	90	95	108	110	112	114

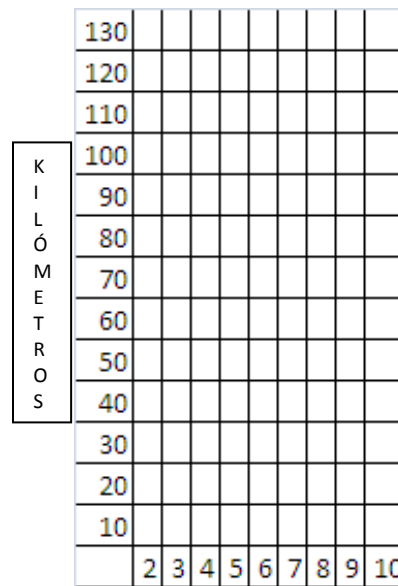
2.- Litros de gasolina que gasta un automóvil por kilometraje.

LITROS	1	2	3	4	5	6	7	8	9	10
KILÓMETROS	9	18	27	36	45	54	63	72	81	90

1.- _____ 2.- _____



AÑOS

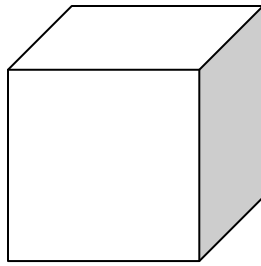


LITROS

✓ LITROS Y DECÍMETROS CÚBICOS. Libro Págs. 168 y 169

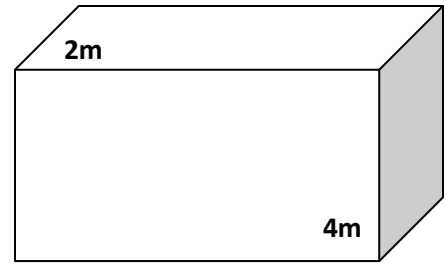
Anota el número de litros de agua que caben en las siguientes cisternas:

A



4m

B



9m

Cisterna A _____

Cisterna B _____

OPERACIONES

Contesta las preguntas:

1.- ¿Cuántos Kilolitros contiene la cisterna A? _____

2.- ¿Cuántos hectolitros tiene la cisterna B? _____

3.- ¿Qué diferencia hay en la cisterna A y la B? _____

4.- Si la cisterna A tiene tres cuartas partes de agua. ¿Cuántos litros le faltan para llenarse?

✓ **RECOPIACIÓN Y ANÁLISIS DE INFORMACIÓN. Libro Págs. 170 y 171**

Entrevista a 15 estudiantes de tu escuela para saber cuántos prefieren como materia favorita Español y cuántos prefieren Matemáticas.

Núm.	Persona entrevistada	Edad	Hombre/Mujer	Español/Matemáticas

Contesta de acuerdo con los datos de la tabla.

1.- ¿Cuántos hombres y cuántas mujeres entrevistaste? _____

2.- ¿Cuál es la edad promedio de los entrevistados? _____

3.- Ordena, de menor a mayor, las edades de los entrevistados y calcula la mediana.

_____, _____, _____, _____, _____, _____, _____, _____, _____, _____, _____, _____, _____, _____, _____, _____.

4.- Mediana _____

5.- ¿Cuántas mujeres prefieren Español? _____

6.- ¿Cuántos hombres prefieren Matemáticas? _____

7.- ¿Qué asignatura obtuvo mayor preferencia? _____

8.- ¿Quiénes prefieren más la asignatura de Matemáticas, los hombres o las mujeres?

✓ **DIVISIÓN CON COCIENTE HASTA CENTÉSIMOS. Libro Págs. 172 y 173**

Realiza las divisiones.

Aproxima el resultado hasta centésimos.

$$25 \overline{) 45}$$

$$56 \overline{) 796}$$

$$75 \overline{) 689}$$

Observa la nota y completa las expresiones.

TIENDAS ALIEN	
Lo mejor en tiendas	
6 refrescos	\$ 75.30
5 cajas de galletas	\$ 19.35
4 gelatinas	\$ 19.80
Total	_____
Efectivo	\$200.00
Cambio	_____

1.- Costo por refresco: _____

2.- Costo por caja de galleta: _____

3.- Costo por gelatina: _____